



R4 後期 保育実習理論 問1

次の曲の伴奏部分として、A～Dにあてはまるものの正しい組み合わせを一つ選びなさい。



(組み合わせ)

A B C D

1 ア イ ウ エ




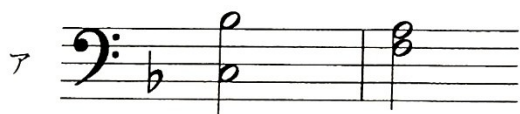

2 イ ア イ ウ

3 イ エ エ ア

4 ウ ア エ イ

5 ウ エ ア ア

R6 前期 保育実習理論 問1 次の曲の伴奏部分として、A～Dにあてはまるものの正しい組み合わせを一つ選びなさい。



(組み合わせ)

A B C D

1 ア ウ イ エ

2 イ ア ウ エ


3 イ ウ エ ア

4 ウ ア エ イ

5 ウ エ イ ア

R4 前期 保育実習理論 問I

次の曲の伴奏部分として、A～Dにあてはまるものの正しい組み合わせを一つ選びなさい。



(組み合わせ)

A B C D

- 1 ア ウ エ イ
- 2 イ ア ウ イ
- 3 ウ イ エ ア
- 4 エ イ ア エ
- 5 エ ウ ア ウ